




## Formas Geométricas


1. Complete:


Um  tem \_\_\_\_ lados

Um  tem \_\_\_\_ lados

Um  tem \_\_\_\_ lados

Um  tem \_\_\_\_ lados

Um  é o único que não tem lados, pois é uma circunferência (Formato arredondado)



2. Desenhe:

Triângulo

Quadrado

Círculo

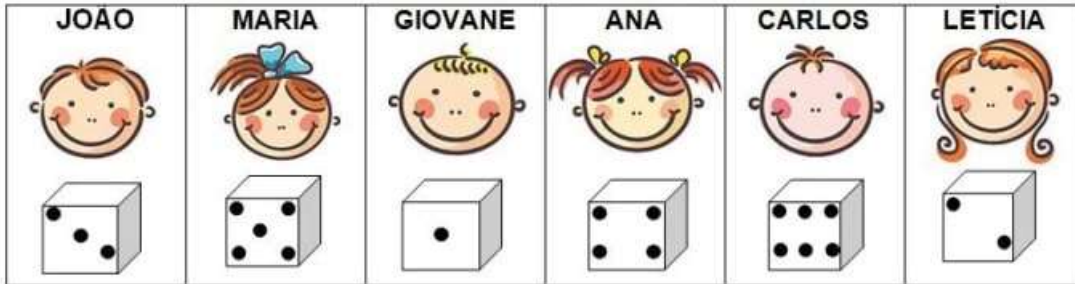
Losango

Retângulo

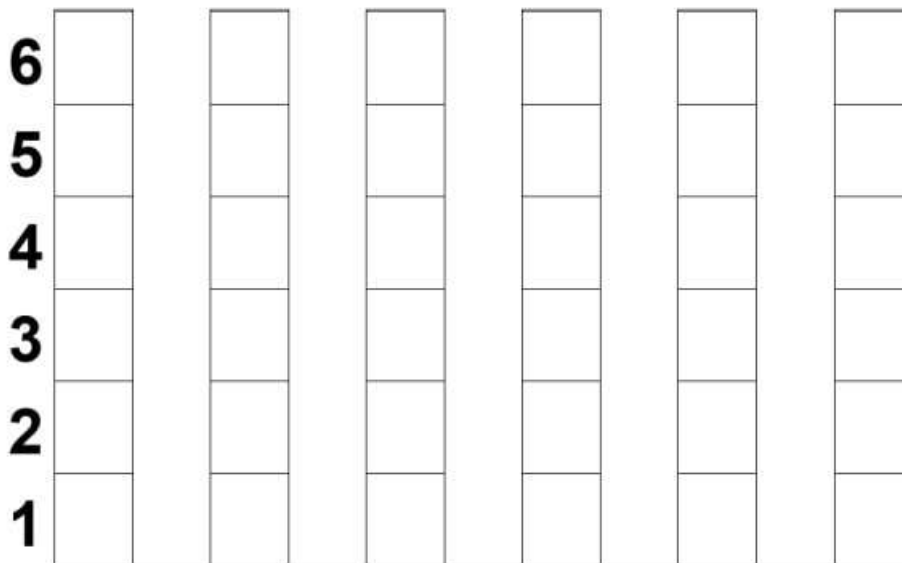
## GRÁFICO BRINCANDO COM DADOS

MARIA E SEUS AMIGOS ESTAVAM BRINCANDO DE VER QUEM CONSEGUIA MAIS PONTOS AO LANÇAR UM DADO.

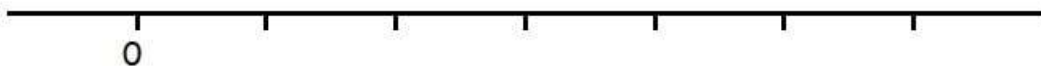
OBSERVE ABAIXO E DESCUBRA QUANTOS PONTOS CADA CRIANÇA CONSEGUIU:



- AGORA, COMPLETE O GRÁFICO ABAIXO DE ACORDO COM O NÚMERO DE PONTOS, QUE CADA CRIANÇA TIROU, NESTA BRINCADEIRA:



- NOME DA CRIANÇA QUE TIROU O MAIOR NÚMERO: \_\_\_\_\_.
- NOME DA CRIANÇA QUE TIROU O MENOR NÚMERO: \_\_\_\_\_.
- NOME DA CRIANÇA QUE TIROU O NÚMERO 2: \_\_\_\_\_.
- NOME DA CRIANÇA QUE TIROU O NÚMERO 5: \_\_\_\_\_.
- COMPLETE A RETA NUMÉRICA:






ESCOLHENDO RESULTADOS

1) Resolva as operações e, depois, circule o resultado ao lado.

$4 + 5 =$	8
	9
	7

$4 + 3 =$	6
	8
	7



$7$	$9$
$+ 2$	$7$
_____	$6$

$3$	$5$
$+ 2$	$4$
_____	$3$

$4$	$5$
$+ 2$	$6$
_____	$7$

$4$	$9$
$+ 4$	$7$
_____	$8$

$6$	$7$
$+ 3$	$8$
_____	$9$

$2$	$6$
$+ 6$	$7$
_____	$8$

$8$	$2$
$- 5$	$4$
_____	$3$

$5$	$0$
$- 4$	$1$
_____	$2$

$9 - 6 =$	2
	3
	4

$5 - 0 =$	0
	5
	6


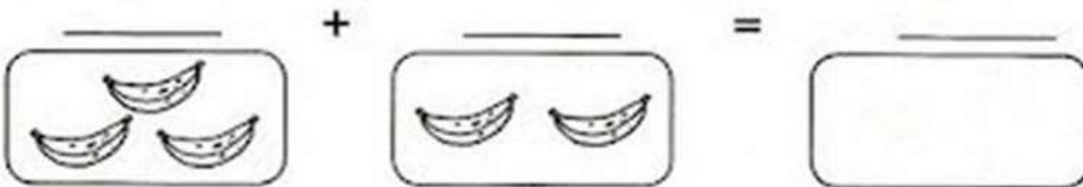
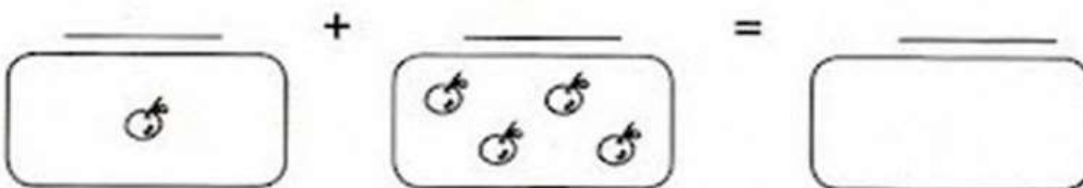
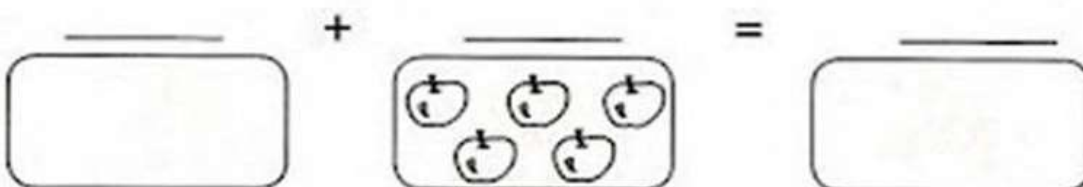
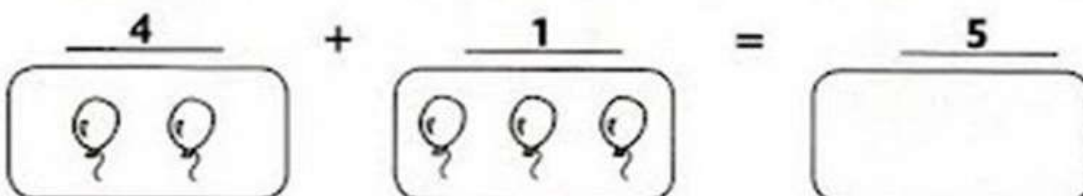

$7 - 7 =$	0
	1
	2

$8 - 4 =$	4
	3
	2

$9 - 4 =$	3
	5
	4

$6 - 5 =$	0
	1
	2

1) FAÇA AS ADIÇÕES DOS CONJUNTOS. JÁ COMECEI.



ATIVIDADE DE MATEMÁTICA – EAD











































ALUNO (A): \_\_\_\_\_

SÉRIE: 1º ANO

DATA: \_\_\_\_ / \_\_\_\_ / \_\_\_\_

DESCUBRA OS NÚMEROS QUE ESTÃO NO LUGAR DOS SÍMBOLOS.

1	2	3		5			8		
11			14		16	17		19	20
21		23		25	26		28		30
31	32		34	35		37		39	40
41	42	43			46			49	50

	<input type="text"/>		<input type="text"/>		<input type="text"/>		<input type="text"/>
	<input type="text"/>		<input type="text"/>		<input type="text"/>		<input type="text"/>
	<input type="text"/>		<input type="text"/>		<input type="text"/>		<input type="text"/>
	<input type="text"/>		<input type="text"/>		<input type="text"/>		<input type="text"/>
	<input type="text"/>		<input type="text"/>		<input type="text"/>		<input type="text"/>




### GRÁFICO BRINCANDO COM CARTAS

AMANDA E SEUS AMIGOS ESTAVAM BRINCANDO DE VER QUEM CONSEGUIA MAIS PONTOS AO SORTEAR AS CARTAS DO JOGO DAS CARTAS DOS ANIMAIS.

OBSERVE A TABELA ABAIXO E DESCUBRA QUAIS CARTAS CADA CRIANÇA SORTEOU:

CRIANÇA	CARTAS	QUANTIDADE	NUMERO
AMANDA			
MARIANA			
CAIO			
ELIAS			
ALICE			
GIOVANA			

- AGORA, COMPLETE O GRÁFICO ABAIXO DE ACORDO COM O NÚMERO DE ANIMAIS DE CADA CARTA, QUE CADA CRIANÇA CONSEGUIU, NESTA BRINCADEIRA:



- COMPLETE A RETA NUMÉRICA COM OS NÚMEROS FALTOSOS:



# RESOLVA AS ADIÇÕES:



$$\begin{array}{r} 4 \\ + 3 \\ \hline \end{array} \quad \begin{array}{r} 5 \\ + 1 \\ \hline \end{array}$$

$$\begin{array}{r} 6 \\ + 3 \\ \hline \end{array} \quad \begin{array}{r} 7 \\ + 2 \\ \hline \end{array} \quad \begin{array}{r} 3 \\ + 3 \\ \hline \end{array} \quad \begin{array}{r} 1 \\ + 9 \\ \hline \end{array} \quad \begin{array}{r} 8 \\ + 2 \\ \hline \end{array}$$

$$\begin{array}{r} 4 \\ + 5 \\ \hline \end{array} \quad \begin{array}{r} 2 \\ + 5 \\ \hline \end{array} \quad \begin{array}{r} 1 \\ + 7 \\ \hline \end{array}$$

$$\begin{array}{r} 5 \\ + 3 \\ \hline \end{array} \quad \begin{array}{r} 10 \\ + 0 \\ \hline \end{array} \quad \begin{array}{r} 4 \\ + 4 \\ \hline \end{array}$$

